



LA TIERRA

Escribe correctamente:
(Sistema Solar, Astros)

El Sol, la Luna y la Tierra son _____.



El Sol y los astros que giran a su alrededor forman el _____.



ChannelKIDS
innovando en un clic


ChannelKIDS
innovando en un clic

VISITA CHANNELKIDS.COM

Escribe correctamente:

(Sistema Solar, Astros)

El Sol, la Luna y la Tierra son _____.



El Sol y los astros que giran a su alrededor forman el _____.

VISITA CHANNELKIDS.COM

Escribe correctamente:

(Luz, estrella)

El Sol es una _____ y, como ellas, es de gran tamaño



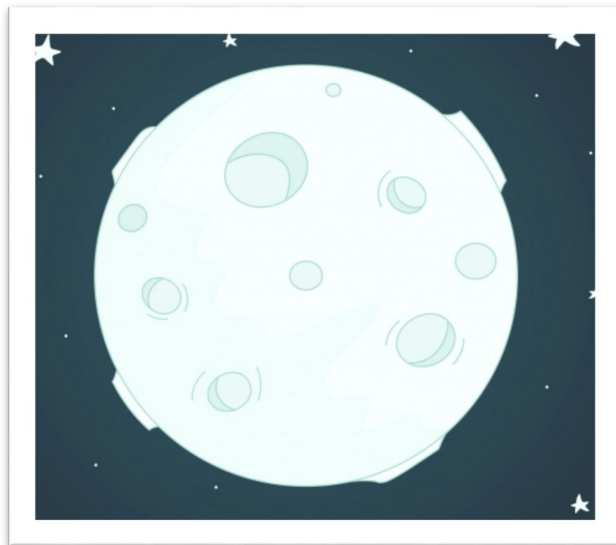
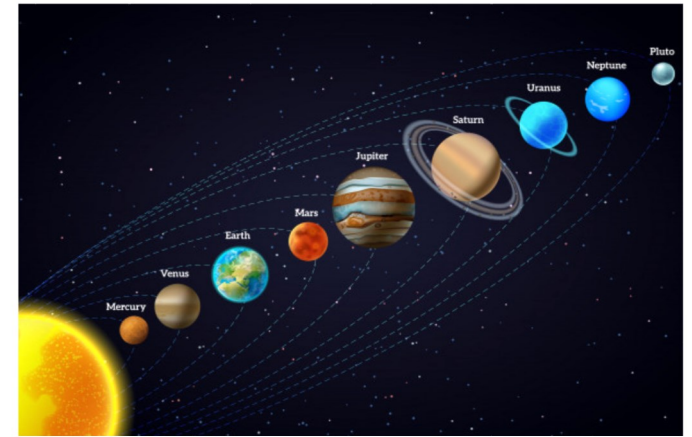
y desprende ____ y calor.

VISITA CHANNELKIDS.COM

Escribe correctamente:

(Cometa, planeta, satélite)

Un _____ es un astro que gira alrededor de una estrella.



Un _____ es un astro que gira alrededor de un planeta.



Un _____ es un astro de pequeño tamaño que recorre grandes distancias alrededor de una

Recorta y pega

El Sol es...

La Tierra es...

La Luna es...

La Luna es...

...una estrella.

...un cometa.

...un satélite.

...un planeta.

Busca 4 tipos de astros

C	B	C	D	E	F	G	H	I
O	K	L	M	N	Ñ	O	P	Q
M	S	T	U	V	W	P	Y	Z
E	S	T	R	E	L	L	A	I
T	K	L	M	N	Ñ	A	P	Q
A	S	T	U	V	W	N	Y	Z
A	B	C	D	E	F	E	H	I
S	A	T	É	L	I	T	E	Q
R	S	T	U	V	W	A	Y	Z

Estrella

Planeta

Satélite

Cometa




Escribe correctamente

Mercurio, Venus, la Tierra y Marte son los planetas que están más _____ del Sol.

Júpiter, Saturno, Urano y Neptuno se encuentran más _____ del Sol, son los de






Escribe el nombre de los planetas



VISITA CHANNELKIDS.COM

Escribe el nombre de los planetas



VISITA CHANNELKIDS.COM

Recorta y pega

La Tierra tiene dos movimientos:

1- Un movimiento de

en el que gira sobre sí misma,
tarda 24 horas

2- Un movimiento de

en el que gira alrededor del Sol,
tarda 365 días (un ____).



año

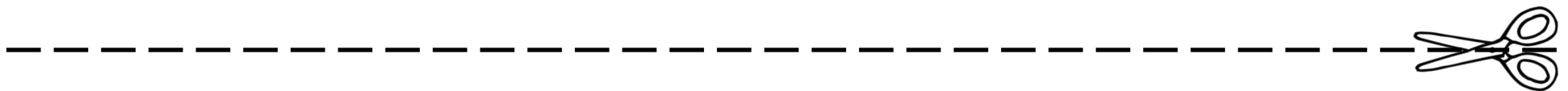
día

rotación

traslación

VISITA CHANNELKIDS.COM

Recorta y pega



rotación

traslación

Recorta y pega

Como la Tierra tiene forma de




En una parte es de ____, la que
está frente al Sol, pues recibe su
luz y es iluminada.




En la otra parte es de ____,
donde no llega la luz del Sol y
está en sombra.



Debido al movimiento de
_____, poco a poco esas
partes van cambiando sus



así se van produciendo los días y
las noches en los diferentes
_____ de la Tierra.



día

esfera

lugares

noche

rotación

VISITA CHANNELKIDS.COM

Recorta y pega

En la vuelta que realiza la Tierra
alrededor del Sol (movimiento
de _____):




Es _____ en la parte de la Tierra
que se recibe con mayor
intensidad la luz y el calor del Sol.




Es _____ en la otra parte,
donde se recibe con menor
intensidad la luz y el calor del Sol



Existen dos estaciones
intermedias: el _____ está entre
el verano y el invierno



y la _____ está entre el
invierno y el verano.



primavera

verano

otoño

invierno

traslación

VISITA CHANNELKIDS.COM

Recorta y pega

Desde el 21 de marzo al 20 de julio:

Desde el 21 de julio al 20 de septiembre:

Desde el 21 de septiembre al 20 de diciembre:

Desde el 21 de diciembre al 20 de marzo:



Invierno

Otoño

Primavera

Verano

VISITA CHANNELKIDS.COM

Escribe correctamente:

(Invierno, Otoño, Primavera y Verano)

Hace más calor en:

Hace más frío en:

Los días son más cortos en:

Los días son más largos en:

Las temperaturas son
moderadas en:

VISITA CHANNELKIDS.COM


CREDITOS



Font Meme



VISITA CHANNELKIDS.COM



ChannelKIDS
innovando en un clic

VISITA CHANNELKIDS.COM

